

1 次の文を読んで、あとの問いに答えなさい。

日本はたいへん水に恵まれた国です。その水を上手に利用するために、日本人は様々な工夫をこらしてきました。たとえば、飲料や農業のために水を引いたり、ためたりして利用してきました。

水を引いて利用するものとして、関東では江戸時代に作られた玉川上水や野火止用水などが有名です。玉川上水は現在でも利用されていますが、野火止用水は時代がたつとともに大きく変化してきました。野火止用水が作られた当初、乾燥した地質のために水を十分に手に入れることができなかつた人々は、自分たちの飲料水や生活用水として利用することができ大変に感謝したそうです。後の時代になると、農業用にも水を供給するようになり、多くの新田が開発されました。しかし、1960年代に入ると、周辺地域に宅地化が進んだため、野火止用水に家庭から出る水が流れ込み、しだいに水の汚れが目立ち始めました。また、1964年に起こった干ばつのために、野火止用水へ水を流すのを一時的に止めたりしたため、水質はさらに悪化の一途をたどることになり、もはや生活用水としての役割を果たすことができなくなりました。その後、用水の上にはふたがのせられてしまい、かつての面影は完全に消えてしまったかに思えました。しかし、( )県と新座市、そして用水の大切さを知る人々は、かつての用水の美しさを取りもどそうとして運動を起こしました。その結果、現在では美しい水が流れる公園と散策路として市民のいこいの場となっています。

一方、水をためて利用する方法としては、古くからため池がありました。日本で最初に作られたため池は( )にある狭山池というため池です。この池は大山古墳の近くにあり、7世紀頃に作られたと考えられています。その後、たびたび改修工事が行われて、周囲の耕作地に水を供給していました。現在でも、ダムや公園として市民に愛されています。

また、一方でため池を数多く作って利用してきた地域もあります。現在( )には14,000カ所のため池が存在しています。それは、ここが年間を通して暖かく降雨量も少ない瀬戸内式気候に属しているからです。ここでは、年間の平均気温が16前後で温暖ですが、降雨は特に少なく、年間の平均降水量は全国平均の約3分の2程度で、しかも雨は梅雨期と台風期に集中しています。また、川は流れが急で短いため、せっかく降った

雨もすぐに海へ流れてしまうなど、水の利用にはとても不利な条件となっています。そのため、古くから数多くのため池が作られてきたのです。その中でも、平安時代に（ ）が改修したことで知られている満濃池<sup>まんのういけ</sup>は日本で農地に水を供給する最大のため池として有名です。

このように、日本では、水を有効に利用するために、水を引いたり、ためたりすることを多く行ってきました。現在でもダム<sup>ダム</sup>の建設や湖の開発、地下水の利用など様々な工夫がなされていますが、これらは自然環境を傷つけてしまうおそれもあるため、慎重<sup>しんちょう</sup>に行われるようになっています。しかし、森林はダム以上の働きをするといわれています。ですからそのためにおこなわれる植林も大切な事業です。

長い歴史の中で、多くの人々によって水資源は大切にされてきました。わたしたちも一滴<sup>いってき</sup>の水をむだにしない気持ちを持つことが大切です。

問1 下線部の地質が乾燥していたのは、今から約180万年前に火山灰が積もってできた地層だからです。この地層のことを何と言いますか。

問2 下線部の1964年に起こった干ばつは、その年に日本で行われた世界的行事にちなんで名付けられています。その行事とは何ですか。

問3 ( )には県名が入ります。あてはまる県名を漢字で正しく書きなさい。

問4 ( )には都道府県名が入ります。あてはまる都道府県名を漢字で正しく書きなさい。

問5 ( )には都道府県名が入ります。あてはまる都道府県名を漢字で正しく書きなさい。

問6 下線部の瀬戸内式気候をふくめて、日本には全部で6つの気候区分があります。次のA～Fの気候区分にあてはまる雨温図を、下の図1～6の中から選び、番号で答えなさい。また、その雨温図にあてはまる都市名を下の語群<sup>ごぐん</sup>の中から選び、記号で答えなさい。

**【気候区分】**

A：太平洋岸式気候      B：日本海岸式気候      C：瀬戸内式気候  
 D：中央高地式（内陸性）気候      E：北海道の気候      F：沖縄の気候

**【雨温図】**

図 1

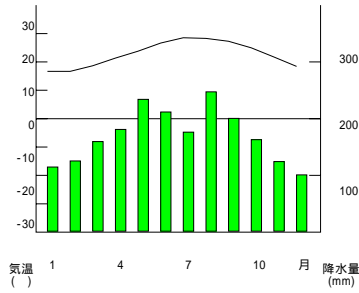


図 2

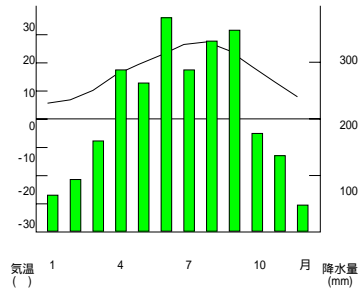


図 3

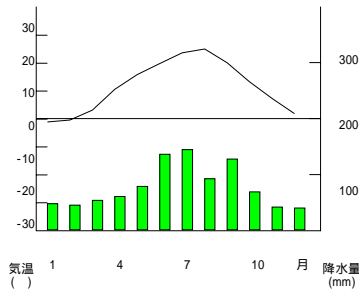


図 4

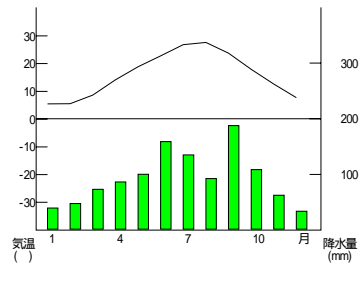


図 5

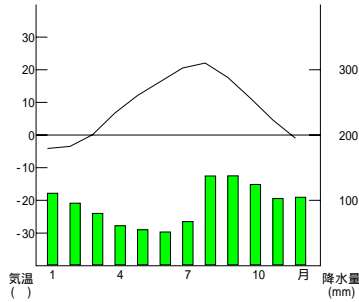
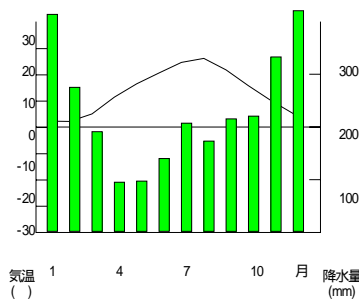


図 6



(2001年版 理科年表をもとに作成)

**【都市名】**

あ：高知      い：高松      う：札幌      え：那覇      お：長野      か：高田

問7 ( )にあてはまる人物名を漢字で正しく書きなさい。

問8 下線部 について、このように言われるのはなぜですか、その理由を15字～25字で1つ書きなさい。

2 次の略年表を見て、あとの問いに答えなさい。

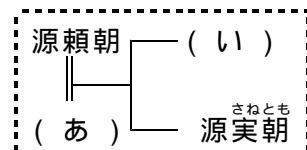
593年	(1) <u>聖徳太子</u> が <sup>せつしやう</sup> 摂政となる	<input type="text"/>
710年	( A )に都が移る	<input type="text"/>
794年	( B )に都が移る	<input type="text"/>
1192年	(2) <u>源頼朝</u> が <sup>せい い</sup> 征夷大將軍となる	<input type="text"/>
1467年	( C )の乱が始まる	<input type="text"/>
1590年	(3) <u>豊臣秀吉</u> が天下を統一する	<input type="text"/>
1853年	(4) <u>ペリー</u> が浦賀に來航する	<input type="text"/>
1914年	第一次世界大戦が始まる	
1945年	太平洋戦争が終わる	

問1 下線部(1)の人物が<sup>かつやく</sup>活躍した時代のできごととしてまちがっているものを次の中から1つ選び、記号で答えなさい。

- ア．役人に十二の<sup>かんい</sup>冠位を与えた。
- イ．公地公民の制度をとりいれた。
- ウ．十七条の憲法をつくった。
- エ．法隆寺を<sup>こんりゅう</sup>建立した。

問2 空らん(A)・(B)に入る都の名前を漢字で正しく書きなさい。

問3 下線部(2)について、右の家系図の空らん(あ)・(い)に入る人名を姓名とも正しい漢字で書きなさい。



問4 空らん(C)の乱で、都はすっかり<sup>あ</sup>荒れ果ててしまいました。空らん(C)に入る言葉を漢字で正しく書きなさい。

問5 下線部(3)の人物が築いた城を次の中から1つ選び、記号で答えなさい。

ア．安土城　　イ．江戸城　　ウ．伏見城　　エ．小田原城

問6 下線部(4)のできごとの翌年に、ペリーを派遣してきた国との間で結ばれた条約の名前を漢字で正しく書きなさい。

問7 次のできごとがおきたのは、年表の中の ~ のどの時期ですか、番号で答えなさい。

- (1) 鉄砲やキリスト教が伝わって、西洋との交流が始まった。
- (2) モンゴルの大軍が九州北部に攻めてきた。
- (3) 遣唐使がさかんに派遣され、正倉院に納められている宝物の多くがもたらされた。
- (4) 天台宗や真言宗が中国から伝えられた。
- (5) 隋に使いを派遣した。

問8 次のア～エのできごとは年表中の の時期に起こったものです。これを年代順に正しく並べたときに、3番目にくるものはどれですか、記号で答えなさい。

- ア．スペイン船の来航を禁止した。
- イ．幕府が、大名や商人に朱印状を与えて保護した。
- ウ．オランダの商館を出島に移した。
- エ．島原・天草の一揆がおこった。

問9 年表の中の の時期にあてはまることからして正しいものを1つ選び、記号で答えなさい。

- ア．国民を主権者とする憲法が制定された。
- イ．20歳以上の男女に選挙権が与えられた。
- ウ．言論や学問の自由が憲法で保障された。
- エ．天皇を主権者とする憲法が制定された。

### 3 次の文章を読んで、あとの問いに答えなさい。

国際連合は、世界の平和及び安全を維持するために、〔ア〕年の10月24日に（ ）の発効によって発足しました。（ ）とは、国際連合の目的・組織・活動などを定めた、国連の憲法とも言える文章です。

第1回国連総会は、発足の翌年の1月、原加盟国の〔イ〕ヶ国の代表が集まって開催されました。また、国連の本部はアメリカの（ ）という都市におかれました。

国際連合がつくられた目的は、第1に、世界の平和と安全を守ることです。平和がおびやかされるようなことが発生した場合、国連は平和的手段で解決するよう力をつくします。

国連は、総会、安全保障理事会とその他の理事会、事務局、国際司法裁判所、そしてたくさんの専門機関から成り立っています。

総会は、すべての加盟国の代表で構成されており、1国につき〔ウ〕票の投票権があたえられています。ここでは、世界の人々の人権を守るための(1)さまざまな条約や宣言が採択され、また世界のさまざまな問題に対処するための新たな(2)機関が設立されています。これに対し、安全保障理事会は世界の平和と安全を維持することを主な仕事とする、国連の実質的な中心機関です。安全保障理事会は、5ヶ国の常任理事国と、〔エ〕ヶ国の(3)非常任理事国で構成されています。当初、5常任理事国は、アメリカ、イギリス、フランス、ソビエト連邦、中華民国でした。現在では、ソ連ではなく（ ）という国が、中華民国ではなく（ ）という国が常任理事国となっています。安全保障理事会の重要事項は、常任理事国のすべてをふくむ9ヶ国以上の賛成が必要です。5常任理事国のうち1ヶ国でも反対すれば、重要事項を決定することはできません。この権利を（ ）といいます。安全保障理事会以外の理事会は、経済社会理事会、信託統治理事会、人権理事会の3つがあります。そのうち、経済社会理事会は、経済・社会・文化・教育などの国際交流を進め、各国や各機関に対して勧告を行うことが仕事です。経済社会理事会は、目的を達成するため(4)多くの専門機関と協力しています。

2006年7月現在で(5)国連の加盟国は〔オ〕ヶ国となり、世界のほとんどの国が加盟していることとなります。

